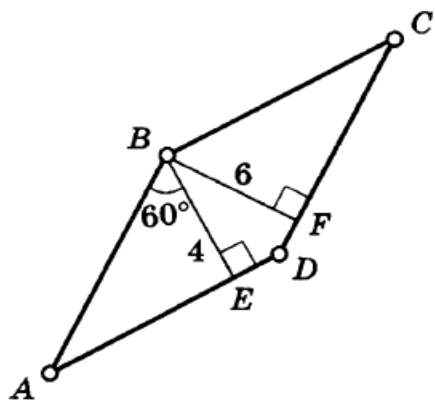


15

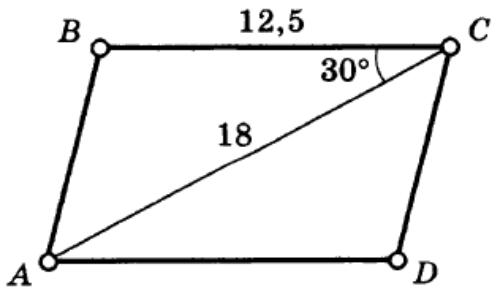


**Задание:** Для каждой задачи сделать крупный чертеж, отметить на нем все, что дано по условию (т. е. скопировать чертеж). Затем **другим цветом** отметить на нем то, что потребуется в процессе решения задачи для получения ответа. Рядом с чертежом нужно записать формулу, с помощью которой вычисляется площадь, вычисления и ответ.

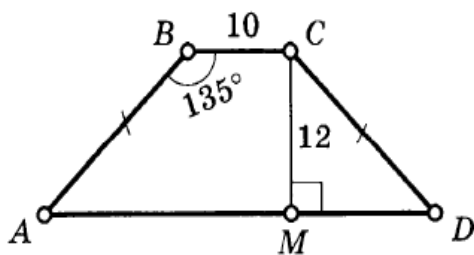
**Оцениваться будет:**

- ясность и полнота информации на чертеже, отсутствие лишнего, разные цвета чернил (2 балла);
- правильность ответа (2 балла);
- оформление (чистота и красота чертежа, 1 балл).

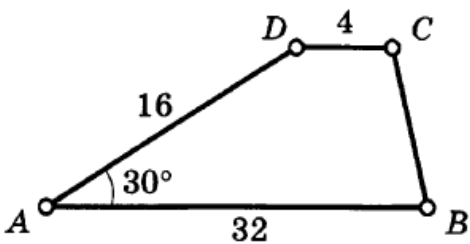
8



4



9



19

$ABCD$  — трапеция

